

**МИНПРОСВЕЩЕНИЯ РОССИИ  
ФЕДЕРАЛЬНОЕ ГОСУДАРСТВЕННОЕ БЮДЖЕТНОЕ ОБРАЗОВАТЕЛЬНОЕ  
УЧРЕЖДЕНИЕ ВЫСШЕГО ОБРАЗОВАНИЯ «НИЖЕГОРОДСКИЙ  
ГОСУДАРСТВЕННЫЙ ПЕДАГОГИЧЕСКИЙ УНИВЕРСИТЕТ  
ИМЕНИ КОЗЬМЫ МИНИНА»**

**ДЕМОНСТРАЦИОННЫЙ ВАРИАНТ ВСТУПИТЕЛЬНОГО ИСПЫТАНИЯ  
ПО ФИЗИКЕ**

*Пояснения к демонстрационному варианту*

Назначение демонстрационного варианта заключается в том, чтобы дать возможность любому абитуриенту составить представление о структуре вариантов, количестве заданий, их форме, уровне сложности.

Общее число заданий в демонстрационном варианте экзаменационной работы – 26. Часть 1 – задания 1-20, часть 2 – задания 21-26.

В заданиях 1–4, 7, 8, 11–13 и 16 ответом является целое число или конечная десятичная дробь. Ответом к заданиям 5, 6, 9, 10, 14, 15, 17, 18 и 20 является последовательность цифр. В заданиях 5, 9, 14 и 18 предполагается два или три верных ответа. Ответом к заданию 19 являются два числа. Ответ к заданиям 21–26 включает в себя подробное описание всего хода выполнения задания. Полное правильное решение каждой из задач 22–26 должно содержать законы и формулы, применение которых необходимо и достаточно для решения задачи, а также математические преобразования, расчёты с численным ответом и при необходимости рисунок, поясняющий

**Система оценивания заданий**

Правильное выполнение заданий с номерами 1,2,3, 4, 7, 8, 10, 11, 12, 13, 16, 19, 20 оцениваются 1 баллом; задания с номерами 6, 10, 15, 17 оцениваются 2 баллами. Задание считается выполненным верно, если ответ записан в той форме, которая указана в инструкции по выполнению задания, и полностью совпадает с эталоном ответа: каждый символ в ответе стоит на своём месте, лишние символы в ответе отсутствуют. Выставляется 1 балл, если на любой одной позиции ответа записан не тот символ, который представлен в эталоне ответа. Во всех других случаях выставляется 0 баллов. Если количество символов в ответе больше требуемого, выставляется 0 баллов вне зависимости от того, были ли указаны все необходимые символы. В заданиях на множественный выбор 5, 9, 14 и 18 предполагается два или три верных ответа. Правильное выполнение каждого из заданий 5, 9, 14 и 18 оценивается 2 баллами. Задание считается выполненным верно, если ответ записан в той форме, которая указана в инструкции по выполнению задания, каждый символ присутствует в ответе, в ответе отсутствуют лишние символы. Порядок записи символов в ответе значения не имеет. Выставляется 1 балл, если только один из символов, указанных в ответе, не соответствует эталону (в том числе есть один лишний символ наряду с остальными верными) или только один символ отсутствует; во всех других случаях выставляется 0 баллов. Максимальный первичный балл за выполнение каждого из заданий с развёрнутым ответом 22 и 23 составляет 2 балла, заданий 21, 24 и 25 составляет 3 балла, задания 26 – 4 балла. В критериях оценивания выполнения развёрнутых ответов к каждому заданию приводится подробная инструкция для экспертов, в которой указывается, за что выставляется каждый балл – от нуля до максимального балла.

При вычислениях разрешается использовать непрограммируемый калькулятор.

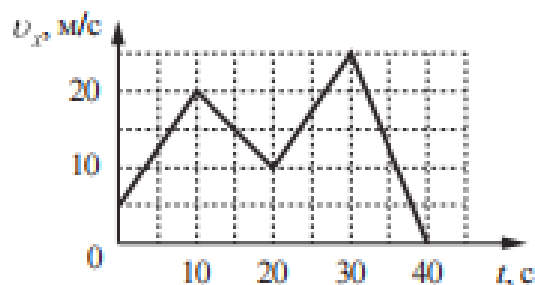
При выполнении заданий можно пользоваться черновиком. Баллы, полученные Вами за выполненные задания, суммируются. Постарайтесь выполнить как можно больше заданий и набрать наибольшее количество баллов.

Максимальный балл, который можно получить за экзаменационную работу составляет 45 баллов, он переводится в 100-балльную систему.

## Часть 1

1

На рисунке приведён график зависимости проекции  $v_x$  скорости тела от времени  $t$ .



Определите проекцию  $a_x$  ускорения тела в интервале времени от 10 до 20 с. Ответ запишите с учётом знака проекции.

Ответ: \_\_\_\_\_  $\text{м/с}^2$ .

2

К системе из кубика массой 2 кг и двух невесомых пружин приложена постоянная горизонтальная сила  $\vec{F}$  (см. рисунок).



Система покоится. Между кубиком и опорой трения нет. Левый край первой пружины прикреплен к стенке. Жёсткость первой пружины  $k_1 = 400 \text{ Н/м}$ . Жёсткость второй пружины  $k_2 = 800 \text{ Н/м}$ . Удлинение второй пружины равно 2 см. Определите модуль силы  $F$ .

Ответ: \_\_\_\_\_ Н.

3

При равномерном прямолинейном перемещении саней по горизонтальному участку пути на 50 м постоянная горизонтально направленная сила тяги совершает работу 500 Дж. Какова сила трения?

Ответ: \_\_\_\_\_ Н.

4

Массивный шарик, подвешенный на лёгкой пружине, совершает свободные гармонические колебания вдоль вертикальной прямой. Во сколько раз нужно увеличить массу шарика, чтобы период колебаний увеличился в 1,5 раза?

Ответ: в \_\_\_\_\_ раз(а).

5

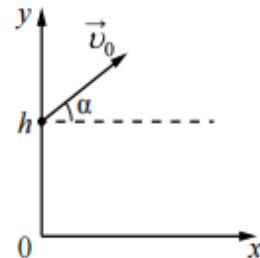
Грузовик массой 10 т проезжает верхнюю точку выпуклого моста, радиус кривизны которого равен 80 м, двигаясь равномерно со скоростью 72 км/ч. Из приведённого ниже списка выберите все верные утверждения, характеризующие движение грузовика.

- 1) Сила, с которой мост действует на грузовик, меньше 40 кН и направлена вертикально вверх.
- 2) Сумма сил, действующих на грузовик, направлена вертикально вверх и перпендикулярна его скорости.
- 3) Сила, с которой грузовик действует на мост, направлена вертикально вниз и равна 50 кН.
- 4) Сила тяжести, действующая на грузовик, равна 10 кН.
- 5) Центробежное ускорение грузовика равно  $5 \text{ м/с}^2$ .

Ответ: \_\_\_\_\_.

6

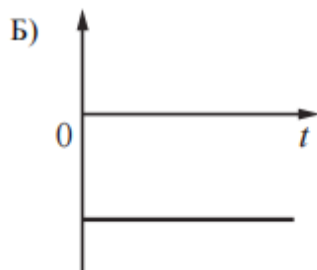
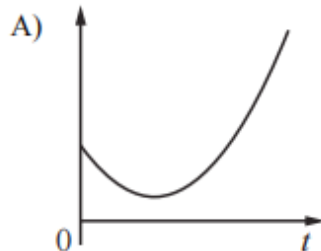
В момент  $t=0$  камень бросают с начальной скоростью  $\vec{v}_0$  под углом  $\alpha$  к горизонту с некоторой высоты  $h$  (см. рисунок). Графики А и Б представляют собой зависимости физических величин, характеризующих движение камня в процессе полёта, от времени  $t$ .



Установите соответствие между графиками и физическими величинами, зависимость которых от времени эти графики могут представлять. (Сопротивлением воздуха пренебречь. Потенциальная энергия камня отсчитывается от уровня  $y=0$ .)

К каждой позиции первого столбца подберите соответствующую позицию из второго столбца и запишите в таблицу выбранные цифры под соответствующими буквами.

#### ГРАФИКИ



#### ФИЗИЧЕСКИЕ ВЕЛИЧИНЫ

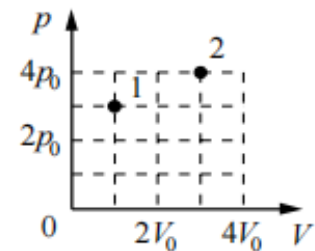
- 1) потенциальная энергия камня
- 2) проекция импульса камня на ось  $y$
- 3) проекция ускорения камня на ось  $y$
- 4) кинетическая энергия камня

Ответ:

А	Б

7

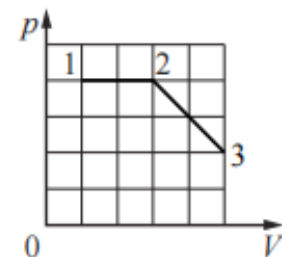
В сосуде под поршнем находится некоторое постоянное количество идеального газа. Во сколько раз увеличится температура газа, если он перейдет из состояния 1 в состояние 2 (см. рисунок)?



Ответ: в \_\_\_\_\_ раз(а).

8

На рисунке показано, как меняется давление идеального газа в зависимости от его объема при переходе из состояния 1 в состояние 2, а затем в состояние 3. Чему равно отношение работ газа  $\frac{A_{23}}{A_{12}}$  в этих двух процессах?



Ответ: \_\_\_\_\_.

9

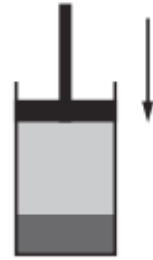
В вертикальном цилиндре под поршнем находится 2 моль гелия. Поршень может перемещаться в цилиндре без трения. Масса гелия в цилиндре постоянна. Атмосферное давление считать постоянным. Из приведенного ниже списка выберите все верные утверждения, характеризующие изменение состояния гелия.

- 1) При сжатии гелия в цилиндре внешние силы совершают отрицательную работу.
- 2) При медленном повышении температуры давление гелия в сосуде увеличивается.
- 3) При медленном понижении температуры сила давления гелия на поршень не изменяется.
- 4) Если на поршень насыпать некоторое количество песка, не меняя температуры гелия, то давление гелия после того, как система придет в равновесие, будет равно первоначальному давлению.
- 5) При медленном повышении температуры объем, занимаемый гелием, увеличивается.

Ответ: \_\_\_\_\_.

10

В цилиндре под поршнем долгое время находится жидкость и её насыщенный пар (см. рисунок). Как изменятся давление и концентрация молекул пара при медленном перемещении поршня вниз, если температура останется неизменной? В процессе движения поршень не касается поверхности жидкости.



Для каждой величины определите соответствующий характер изменения:

- 1) увеличится
- 2) уменьшится
- 3) не изменится

Запишите в таблицу выбранные цифры для каждой физической величины. Цифры в ответе могут повторяться.

Давление пара	Концентрация молекул пара

11

Силы электростатического взаимодействия между двумя точечными неподвижными заряженными телами равны по модулю 50 мН. Каким станет модуль этих сил, если заряд одного из тел увеличить в 2 раза?

Ответ: \_\_\_\_\_ мН.

12

Проволочная рамка вращается в постоянном однородном магнитном поле вокруг оси, перпендикулярной вектору магнитной индукции. Ось вращения лежит в плоскости рамки. Магнитный поток, пронизывающий поверхность, которая ограничена рамкой, изменяется по закону  $\Phi = 4 \cdot 10^{-7} \cos 100\pi t$ , где все величины выражены в СИ. Модуль вектора магнитной индукции равен 2 мТл. Определите площадь рамки.

Ответ: \_\_\_\_\_ см<sup>2</sup>.

13

На шахматной доске на расстоянии трёх клеток от вертикального плоского зеркала стоит ферзь. На сколько уменьшится расстояние между ферзём и его изображением, если его придвинуть к зеркалу на две клетки?

Ответ: на \_\_\_\_\_ клеток(-ки).

14

В идеальном колебательном контуре, состоящем из конденсатора и катушки индуктивности, происходят свободные электромагнитные колебания. Изменение заряда конденсатора в колебательном контуре с течением времени показано в таблице.

$t, 10^{-6} \text{ с}$	0	1	2	3	4	5	6	7	8	9
$q, 10^{-9} \text{ Кл}$	1	0,71	0	-0,71	-1	-0,71	0	0,71	1	0,71

Выберите все верные утверждения о процессах, происходящих в контуре.

- 1) Период колебаний равен  $8 \cdot 10^{-6} \text{ с}$ .
- 2) Частота колебаний равна  $250 \text{ кГц}$ .
- 3) В момент времени  $t = 2 \cdot 10^{-6} \text{ с}$  модуль силы тока в катушке индуктивности максимален.
- 4) В момент времени  $t = 8 \cdot 10^{-6} \text{ с}$  энергия магнитного поля катушки индуктивности максимальна.
- 5) В момент времени  $t = 4 \cdot 10^{-6} \text{ с}$  энергия электрического поля конденсатора минимальна.

Ответ: \_\_\_\_\_.

15

Участок цепи, состоящий из отрезка провода с большим удельным сопротивлением, подключён к клеммам источника постоянного напряжения. Данный отрезок провода заменили другим проводом такой же длины и из того же материала, но вдвое большего диаметра. Как изменились в результате этой замены сила тока на участке цепи и сопротивление этого участка? Считать, что напряжение на участке цепи сохраняется постоянным. Для каждой величины определите соответствующий характер изменения:

- 1) увеличилась
- 2) уменьшилась
- 3) не изменилась

Запишите в таблицу выбранные цифры для каждой физической величины. Цифры в ответе могут повторяться.

Сила тока	Сопротивление

16

В результате ядерной реакции  ${}^6_3\text{Li} + {}^2_1\text{H} \rightarrow {}^A_Z\text{X} + {}^4_2\text{He}$  образуется ядро химического элемента  ${}^A_Z\text{X}$ . Каково массовое число  $A$  образовавшегося ядра  $X$ ?

Ответ: \_\_\_\_\_.

17

При исследовании зависимости максимальной кинетической энергии фотоэлектронов от длины волны падающего света фотоэлемент освещали через различные светофильтры. В первой серии опытов использовали светофильтр, пропускающий только ультрафиолетовое излучение, а во второй – пропускающий только синий свет. В каждом опыте наблюдали явление фотоэффекта и измеряли задерживающее напряжение.

Как изменялись длина световой волны, падающей на фотоэлемент, и максимальная кинетическая энергия фотоэлектронов при переходе от первой серии опытов ко второй? Для каждой величины определите соответствующий характер её изменения:

- 1) увеличивалась
- 2) уменьшалась
- 3) не изменялась

Запишите в таблицу выбранные цифры для каждой физической величины. Цифры в ответе могут повторяться.

Длина световой волны, падающей на фотоэлемент	Максимальная кинетическая энергия фотоэлектронов

18

Выберите все верные утверждения о физических явлениях, величинах и закономерностях. Запишите цифры, под которыми они указаны.

- 1) Работа силы тяжести по перемещению тела между двумя заданными точками зависит только от длины соединяющей их траектории.
- 2) При прочих равных условиях диффузия протекает в твёрдых телах значительно медленнее, чем в жидкостях.
- 3) Весь электростатический заряд проводника сосредоточен на его поверхности.
- 4) Свободные электромагнитные колебания являются гармоническими, если электрический заряд на обкладках конденсатора с течением времени меняется по закону синуса или косинуса.
- 5) Атомы изотопов одного и того же химического элемента различаются числом протонов.

Ответ: \_\_\_\_\_.

19

Манометр проградуирован в миллиметрах ртутного столба. Запишите его показания, если абсолютная погрешность измерения давления манометром  $\Delta p = 3$  мм рт. ст.



Ответ: ( \_\_\_\_\_  $\pm$  \_\_\_\_\_ ) мм рт. ст.

20

Ученику необходимо на опыте обнаружить зависимость электроёмкости плоского конденсатора от площади каждой из его пластин. У него имеется пять конденсаторов, характеристики которых приведены в таблице. Какие **два** конденсатора необходимо взять ученику, чтобы провести этот опыт?

№ конденсатора	Расстояние между пластинами, мм	Площадь пластины, см <sup>2</sup>	Диэлектрик, заполняющий пространство между пластинами
1	0,2	20	парафин
2	0,4	30	парафин
3	0,2	20	слюда
4	0,3	10	слюда
5	0,4	10	парафин

Запишите в ответе номера выбранных конденсаторов.

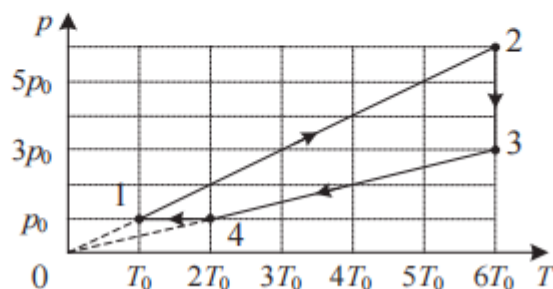
Ответ:

--	--

## Часть 2

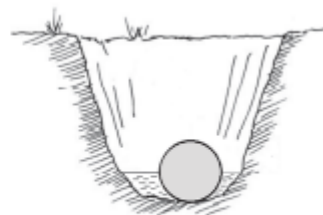
21

Один моль гелия участвует в циклическом процессе 1–2–3–4–1, график которого изображён на рисунке в координатах  $p$ – $T$ , где  $p$  – давление газа,  $T$  – абсолютная температура. Постройте график цикла в координатах  $p$ – $V$ , где  $p$  – давление газа,  $V$  – объём газа. Опираясь на законы молекулярной физики и термодинамики, сравните модуль работы газа в процессе 2–3 и модуль работы внешних сил в процессе 4–1.



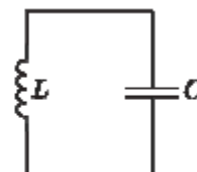
22

При игре в кркет на лужайке однородный дубовый шар массой  $m = 454$  г закатился в ямку с водой (см. рисунок), при этом половина шара оказалась в воде. Определите плотность дерева, если шар давит на ровное дно ямки с силой  $F = 1,66$  Н. Сделайте схематичный рисунок с указанием сил, действующих на шар.



23

В идеальном колебательном контуре (см. рисунок) напряжение между обкладками конденсатора меняется по закону  $U_c = 10 \cdot \sin(10\,000t + \pi)$ . Максимальное значение силы тока в контуре  $I_{\max} = 0,1$  А. Определите индуктивность катушки.

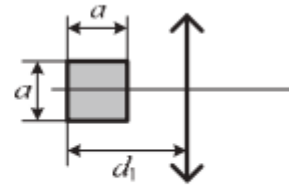


24

В бутылке объёмом 1 л находится гелий при нормальном атмосферном давлении. Горлышко бутылки площадью  $2 \text{ см}^2$  заткнуто короткой пробкой, имеющей массу 20 г. Когда бутылку поставили на стол вертикально горлышком вверх, оказалось, что если сообщить гелию в бутылке количество теплоты не менее 9 Дж, то он выталкивает пробку из горлышка. Какую минимальную постоянную силу нужно приложить к пробке, чтобы вытащить её из горлышка бутылки, не нагревая, если бутылка лежит горизонтально? Модуль силы трения, действующей на пробку, считать в обоих случаях одинаковым.

25

Квадрат со стороной  $a = 20$  см расположен в плоскости главной оптической оси тонкой собирающей линзы с оптической силой  $D = 2$  дптр так, что две его стороны параллельны плоскости линзы, а центр квадрата лежит на главной оптической оси (см. рисунок). Расстояние от дальней стороны квадрата до плоскости линзы  $d_1 = 90$  см. Определите площадь изображения квадрата в линзе. Сделайте рисунок, на котором постройте изображение квадрата в линзе, указав ход всех необходимых для построения лучей.



26

Снаряд в полёте разорвался на два равных осколка, один из которых продолжил лететь по направлению движения снаряда, а другой полетел в противоположную сторону. В момент разрыва суммарная кинетическая энергия осколков возросла за счёт энергии взрыва на величину  $0,5$  МДж. Модуль скорости осколка, летящего по направлению движения снаряда, равен  $900$  м/с, а модуль скорости второго осколка равен  $100$  м/с. Найдите массу снаряда. Сопротивлением воздуха и массой порохового заряда пренебречь.

*Обоснуйте применимость законов, используемых для решения задачи.*

## Ответы и критерии оценивания

### Часть 1

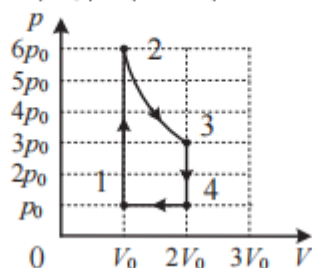
Номер задания	Правильный ответ	Номер задания	Правильный ответ
1	-1	11	100
2	16	12	2
3	10	13	4
4	2,25	14	13
5	35	15	12
6	43	16	4
7	4	17	12
8	0,75	18	234
9	35	19	1363
10	33	20	25

### Часть 2

Критерии оценивания задания 21

Возможное решение
<p>1. Построим график цикла в координатах <math>p</math>-<math>V</math>, где <math>p</math> – давление газа, <math>V</math> – объём газа. Перестроим график цикла в этих координатах.</p> <p>Процесс 1–2 при <math>v = \text{const}</math> является изохорным, поскольку его график проходит через начало координат <math>\left(\frac{p}{T} = \text{const}\right)</math>. В ходе процесса абсолютная температура и давление газа увеличились в 6 раз.</p> <p>Процесс 2–3 изотермический, при <math>v = \text{const}</math> его графиком в координатах <math>p</math>-<math>V</math> является гипербола. Согласно закону Бойля – Мариотта (<math>pV = \text{const}</math>) уменьшение давления газа в 2 раза приведёт к увеличению объёма газа в 2 раза.</p> <p>Процесс 3–4 при <math>v = \text{const}</math> является изохорным, поскольку его график проходит через начало координат <math>\left(\frac{p}{T} = \text{const}\right)</math>. В процессе 3–4 газ изохорно уменьшил свою абсолютную температуру и давление в 3 раза, а в процессе 4–1 – изобарно вернулся в исходное состояние согласно закону Гей-Люссака <math>\left(\frac{V}{T} = \text{const}\right)</math>, уменьшив абсолютную температуру и свой объём в 2 раза (см. рисунок).</p> <p>2. Работа газа в термодинамике численно равна площади фигуры под графиком в координатах, где <math>p</math> – давление газа, <math>V</math> – объём газа.</p> <p>Из графика видно, что модуль работы газа в процессе 2–3 численно равен площади под гиперболой 2–3 и <math>A_{23} &gt; 3p_0(2V_0 - V_0) = 3p_0V_0</math>, а модуль работы внешних сил в процессе 4–1 <math>A_{41\text{вн}} = p_0(2V_0 - V_0) = p_0V_0</math>.</p> <p>Таким образом, <math> A_{23}  &gt;  A_{41\text{вн}} </math>.</p>

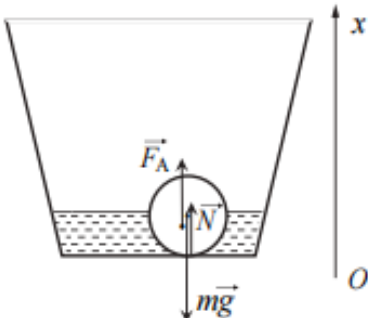
3. *Ответ:* Модуль работы газа в процессе 2–3 больше модуля работы внешних сил в процессе 4–1:  $|A_{23}| > |A_{41\text{Вн}}|$ .



Критерии оценивания выполнения задания	Баллы
<p>Приведено полное правильное решение, включающее правильный ответ (в данном случае: <i>n. 3</i>) и полное верное объяснение (в данном случае: <i>n. 1–2</i>) с прямым указанием наблюдаемых явлений и законов (в данном случае: <i>законы изопроцессов, графическое представление работы в термодинамике</i>)</p>	3
<p>Дан правильный ответ, и приведено объяснение, но в решении имеется один или несколько из следующих недостатков.</p> <p>В объяснении не указано или не используется одно из физических явлений, свойств, определений или один из законов (формул), необходимых для полного верного объяснения. (Утверждение, лежащее в основе объяснения, не подкреплено соответствующим законом, свойством, явлением, определением и т.п.)</p> <p style="text-align: center;">И (ИЛИ)</p> <p>Указаны все необходимые для объяснения явления и законы, закономерности, но в них содержится один логический недочёт.</p> <p style="text-align: center;">И (ИЛИ)</p> <p>В решении имеются лишние записи, не входящие в решение (возможно, неверные), которые не отделены от решения и не зачёркнуты.</p> <p style="text-align: center;">И (ИЛИ)</p> <p>В решении имеется неточность в указании на одно из физических явлений, свойств, определений, законов (формул), необходимых для полного верного объяснения</p>	2
<p>Представлено решение, соответствующее одному из следующих случаев.</p> <p>Дан правильный ответ на вопрос задания, и приведено объяснение, но в нём не указаны два явления или физических закона, необходимых для полного верного объяснения.</p> <p style="text-align: center;">ИЛИ</p> <p>Указаны все необходимые для объяснения явления и законы, закономерности, но имеющиеся рассуждения, направленные на получение ответа на вопрос задания, не доведены до конца.</p> <p style="text-align: center;">ИЛИ</p> <p>Указаны все необходимые для объяснения явления и законы, закономерности, но имеющиеся рассуждения, приводящие к ответу, содержат ошибки.</p> <p style="text-align: center;">ИЛИ</p> <p>Указаны не все необходимые для объяснения явления и законы,</p>	1

закономерности, но имеются верные рассуждения, направленные на решение задачи	
Все случаи решения, которые не соответствуют вышеуказанным критериям выставления оценок в 1, 2, 3 балла	0
<i>Максимальный балл</i>	3

Критерии оценивания задания 22

<b>Возможное решение</b>	
<p>1. Выберем инерциальную систему отсчёта «Лужайка».</p> <p>2. По третьему закону Ньютона <math>N = F</math> (<math>\vec{N}</math> – сила реакции опоры).</p> <p>3. Запишем второй закон Ньютона для шара в проекциях на ось <math>Ox</math>:</p> $F_A + N - mg = 0,$ $m = \rho V, F_A = \rho_b g \frac{V}{2} = \frac{\rho_b g m}{2\rho},$ <p>где <math>V</math> – объём шара, <math>\rho</math> – плотность дерева, <math>\rho_b</math> – плотность воды.</p> <p>Получим <math>F = mg(1 - \frac{\rho_b}{2\rho})</math>, откуда:</p> $\rho = \frac{mg\rho_b}{2(mg - F)} = \frac{0,454 \cdot 10 \cdot 1000}{2(0,454 \cdot 10 - 1,66)} = 790 \text{ кг/м}^3.$ <p>Ответ: <math>\rho \approx 790 \text{ кг/м}^3</math></p>	

Критерии оценивания выполнения задания	Баллы
<p>Приведено полное решение, включающее следующие элементы:</p> <p>I) записаны положения теории и физические законы, закономерности, <u>применение которых необходимо</u> для решения задачи выбранным способом (в данном случае: <i>третий закон Ньютона, второй закон Ньютона для шара, выражение для силы Архимеда, связь массы тела с плотностью</i>);</p> <p>II) сделан рисунок с указанием сил, действующих на шар;</p> <p>III) описаны все вновь вводимые в решении буквенные обозначения физических величин (<i>за исключением обозначений констант, указанных в варианте КИМ, обозначений, используемых в условии задачи, и стандартных обозначений величин, используемых при написании физических законов</i>);</p> <p>IV) представлены необходимые математические преобразования и расчёты (подстановка числовых данных в конечную формулу), приводящие к правильному числовому ответу (допускается решение «по частям» с промежуточными вычислениями);</p> <p>V) представлен правильный ответ с указанием единиц измерения искомой величины</p>	2
<p>Правильно записаны все необходимые положения теории, физические законы, закономерности, и проведены преобразования, направленные на решение задачи, но имеется один или несколько из следующих недостатков.</p> <p>Записи, соответствующие пункту II, представлены не в полном объёме или отсутствуют.</p> <p style="text-align: center;">И (ИЛИ)</p> <p>В решении имеются лишние записи, не входящие в решение (возможно, неверные), которые не отделены от решения и не зачёркнуты.</p> <p style="text-align: center;">И (ИЛИ)</p> <p>В необходимых математических преобразованиях или вычислениях допущены ошибки, и (или) в математических преобразованиях/ вычислениях пропущены логически важные шаги.</p> <p style="text-align: center;">И (ИЛИ)</p> <p>Отсутствует пункт IV, или в нём допущена ошибка (в том числе в записи единиц измерения величины)</p>	1
<p>Все случаи решения, которые не соответствуют вышеуказанным критериям выставления оценок в 1 или 2 балла</p>	0
<p>Максимальный балл</p>	2

<b>Возможное решение</b>	
<p>1. Максимальное значение напряжения на конденсаторе и циклическая частота колебаний <math>U_{\max}=10</math> В и <math>\omega=10\,000</math> с<sup>-1</sup> соответственно. По закону сохранения энергии получим:</p> $\frac{CU_{\max}^2}{2} = \frac{LI_{\max}^2}{2}, \quad (1)$ <p>где <math>C</math> – электроёмкость конденсатора, <math>L</math> – индуктивность катушки, <math>I_{\max}</math> – максимальное значение силы тока.</p> <p>2. По формуле Томсона циклическая частота</p> $\omega = \frac{1}{\sqrt{LC}}. \quad (2)$ <p>Объединив формулы (1) и (2), получим:</p> $L = \frac{U_{\max}}{\omega I_{\max}} = \frac{10}{10\,000 \cdot 0,1} = 10 \text{ мГн.}$ <p>Ответ: <math>L = 10</math> мГн</p>	

<b>Критерии оценивания выполнения задания</b>	<b>Баллы</b>
<p>Приведено полное решение, включающее следующие элементы:</p> <p>I) записаны положения теории и физические законы, закономерности, <u>применение которых необходимо</u> для решения задачи выбранным способом (в данном случае: <i>закон сохранения энергии, формула Томсона</i>);</p> <p>II) описаны все вновь вводимые в решении буквенные обозначения физических величин (<i>за исключением обозначений констант, указанных в варианте КИМ, обозначений, используемых в условии задачи, и стандартных обозначений величин, используемых при написании физических законов</i>);</p> <p>III) представлены необходимые математические преобразования и расчёты (подстановка числовых данных в конечную формулу), приводящие к правильному числовому ответу (допускается решение «по частям» с промежуточными вычислениями);</p> <p>IV) представлен правильный ответ с указанием единиц измерения искомой величины</p>	2

<p>Правильно записаны все необходимые положения теории, физические законы, закономерности, и проведены преобразования, направленные на решение задачи, но имеется один или несколько из следующих недостатков.</p> <p>Записи, соответствующие пункту II, представлены не в полном объёме или отсутствуют.</p> <p style="text-align: center;">И (ИЛИ)</p> <p>В решении имеются лишние записи, не входящие в решение (возможно, неверные), которые не отделены от решения и не зачёркнуты.</p> <p style="text-align: center;">И (ИЛИ)</p> <p>В необходимых математических преобразованиях или вычислениях допущены ошибки, и(или) в математических преобразованиях/вычислениях пропущены логически важные шаги.</p> <p style="text-align: center;">И (ИЛИ)</p> <p>Отсутствует пункт IV, или в нём допущена ошибка (в том числе в записи единиц измерения величины)</p>	1
<p>Все случаи решения, которые не соответствуют вышеуказанным критериям выставления оценок в 1 или 2 балла</p>	0
<p><i>Максимальный балл</i></p>	2

**Возможное решение**

1. Когда бутылка расположена горизонтально (см. рис. а), давление снаружи и внутри одинаково и равно атмосферному  $p_0$ . Поэтому при вытаскивании пробки прикладываемая извне минимальная сила согласно второму закону Ньютона уравнивает силу трения:  $F = F_{\text{тр}}$ .

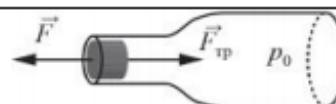


рис. а

2. Когда бутылка расположена вертикально, а гелию в бутылке сообщено минимальное количество теплоты  $Q = 9$  Дж, в момент вылета сумма всех сил, действующих на пробку, согласно второму закону Ньютона равна нулю и поэтому имеет место равенство сил:  $p_0 S + F_{\text{тр}} + mg = pS$ , где  $p$  – давление гелия внутри бутылки,

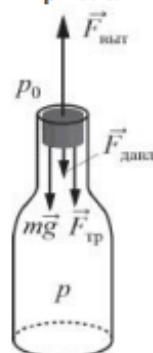


рис. б

$$p_0 S = F_{\text{давл}}, \quad pS = F_{\text{выт}}$$

(см. рис. б).

3. Нагревание гелия происходит изохорно. Поэтому согласно первому закону термодинамики количество теплоты  $Q$ , сообщённое гелию, идёт на увеличение внутренней энергии гелия перед вылетом пробки  $\Delta U$ :

$$Q = \Delta U = \Delta\left(\frac{3}{2} \nu RT\right) = \Delta\left(\frac{3}{2} pV\right) = \frac{3}{2} V(p - p_0).$$

4. Из п. 2 имеем  $p - p_0 = \frac{F_{\text{тр}} + mg}{S}$ .

5. В итоге  $Q = \frac{3V(F_{\text{тр}} + mg)}{2S}$ .

6. Следовательно, из выражения для сообщённого количества теплоты можем получить  $F_{\text{тр}} = \frac{2S}{3V}Q - mg$ , откуда, с учётом пункта 1,

$$F = F_{\text{тр}} = \frac{2QS}{3V} - mg = \frac{2 \cdot 9 \cdot 2 \cdot 10^{-4}}{3 \cdot 10^{-3}} - 0,02 \cdot 10 = 1 \text{ Н.}$$

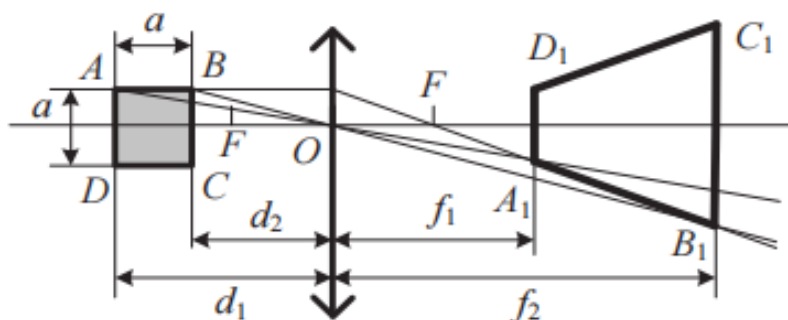
Ответ:  $F = 1$  Н

Критерии оценивания выполнения задания	Баллы
<p>Приведено полное решение, включающее следующие элементы:</p> <p>I) записаны положения теории и физические законы, закономерности, <u>применение которых необходимо</u> для решения задачи выбранным способом (в данном случае: <i>первый закон термодинамики, формула для внутренней энергии идеального одноатомного газа, второй закон Ньютона, формула для связи модуля силы давления с давлением газа</i>);</p> <p>II) описаны все вновь вводимые в решении буквенные обозначения физических величин (<i>за исключением обозначений констант, указанных в варианте КИМ, обозначений, используемых в условии задачи, и стандартных обозначений величин, используемых при написании физических законов</i>);</p> <p>III) представлены необходимые математические преобразования и расчёты (подстановка числовых данных в конечную формулу), приводящие к правильному числовому ответу (допускается решение «по частям» с промежуточными вычислениями);</p> <p>IV) представлен правильный ответ с указанием единиц измерения искомой величины</p>	3
<p>Правильно записаны все необходимые положения теории, физические законы, закономерности, и проведены необходимые преобразования. Но имеются следующие недостатки.</p> <p>Записи, соответствующие пункту II, представлены не в полном объёме или отсутствуют.</p> <p style="text-align: center;">ИЛИ</p> <p>В решении лишние записи, не входящие в решение (возможно, неверные), не отделены от решения (не зачёркнуты; не заключены в скобки, рамку и т.п.).</p> <p style="text-align: center;">ИЛИ</p> <p>В необходимых математических преобразованиях или вычислениях допущены ошибки, и (или) преобразования/вычисления не доведены до конца.</p> <p style="text-align: center;">ИЛИ</p> <p>Отсутствует пункт IV, или в нём допущена ошибка</p>	2
<p>Представлены записи, соответствующие <u>одному</u> из следующих случаев.</p> <p>Представлены только положения и формулы, выражающие физические законы, применение которых необходимо для решения задачи, без каких-либо преобразований с их использованием, направленных на решение задачи, и ответа.</p> <p style="text-align: center;">ИЛИ</p> <p>В решении отсутствует ОДНА из исходных формул, необходимая для решения задачи (или утверждение, лежащее в основе решения), но присутствуют логически верные преобразования с имеющимися формулами, направленные на решение задачи.</p> <p style="text-align: center;">ИЛИ</p> <p>В ОДНОЙ из исходных формул, необходимых для решения задачи (или в утверждении, лежащем в основе решения), допущена ошибка, но присутствуют логически верные преобразования с имеющимися формулами, направленные на решение задачи</p>	1
<p>Все случаи решения, которые не соответствуют вышеуказанным критериям выставления оценок в 1, 2, 3 балла</p>	0
<p>Максимальный балл</p>	3

**Возможное решение**

Обозначим вершины квадрата  $ABCD$ , тогда  $AB = AD = a$ .

Для построения изображения квадрата проведём побочные оптические оси  $AO$  и  $BO$ , а также луч  $AB$ , параллельный главной оптической оси, который, преломившись, пройдёт через фокус линзы. В силу симметрии предмета относительно главной оптической оси его изображение также будет симметричным. В результате построений получим изображение квадрата  $ABCD$  в виде равнобедренной трапеции  $A_1B_1C_1D_1$  (см. рисунок).



Согласно формуле оптической силы линзы  $F = \frac{1}{D} = \frac{1}{2} = 0,5 \text{ м} = 50 \text{ см}$ .

Расстояние от линзы до квадрата равно  $d_2 = d_1 - a = 90 - 20 = 70 \text{ см}$ .

По формуле тонкой линзы определим расстояния от линзы до оснований трапеции:  $\frac{1}{F} = \frac{1}{d_1} + \frac{1}{f_1}$  и  $\frac{1}{F} = \frac{1}{d_2} + \frac{1}{f_2}$ . В итоге  $f_1 = \frac{Fd_1}{d_1 - F} = \frac{50 \cdot 90}{90 - 50} = 112,5 \text{ см}$  и

$$f_2 = \frac{Fd_2}{d_2 - F} = \frac{50 \cdot 70}{70 - 50} = 175 \text{ см}.$$

Высота трапеции  $h = f_2 - f_1 = 175 - 112,5 = 62,5 \text{ см}$ .

Используя формулу увеличения линзы для двух сторон квадрата, получим  $\frac{AD}{d_1} = \frac{A_1D_1}{f_1}$  и  $\frac{BC}{d_2} = \frac{B_1C_1}{f_2}$ . Следовательно,  $A_1D_1 = \frac{f_1 \cdot AD}{d_1} = \frac{112,5 \cdot 20}{90} = 25 \text{ см}$

$$\text{и } B_1C_1 = \frac{f_2 \cdot BC}{d_2} = \frac{175 \cdot 20}{70} = 50 \text{ см}.$$

Площадь изображения (трапеции) определяется формулой

$$S = \frac{A_1D_1 + B_1C_1}{2} \cdot h = \frac{25 + 50}{2} \cdot 62,5 \approx 2344 \text{ см}^2.$$

Ответ:  $S \approx 2344 \text{ см}^2$

Критерии оценивания выполнения задания	Баллы
<p>Приведено полное решение, включающее следующие элементы:</p> <p>I) записаны положения теории и физические законы, закономерности, <u>применение которых необходимо</u> для решения задачи выбранным способом (в данном случае: <i>формула тонкой линзы для двух случаев, формула увеличения линзы для двух сторон квадрата, формула оптической силы линзы</i>);</p> <p>II) сделан правильный рисунок, на котором построено изображение фигуры с указанием хода лучей в линзе;</p> <p>III) описаны все вновь вводимые в решении буквенные обозначения физических величин (<i>за исключением обозначений констант, указанных в варианте КИМ, обозначений, используемых в условии задачи, и стандартных обозначений величин, используемых при написании физических законов</i>);</p> <p>IV) проведены необходимые математические преобразования и расчёты (подстановка числовых данных в конечную формулу), приводящие к правильному числовому ответу (допускается решение «по частям» с промежуточными вычислениями);</p> <p>V) представлен правильный ответ с указанием единиц измерения искомой величины</p> <p>законы, закономерности, и проведены необходимые преобразования, но имеется один или несколько из следующих недостатков.</p> <p>Записи, соответствующие пункту II, представлены не в полном объёме или отсутствуют.</p> <p style="text-align: center;">И (ИЛИ)</p> <p>В решении имеются лишние записи, не входящие в решение (возможно, неверные), которые не отделены от решения и не зачёркнуты.</p> <p style="text-align: center;">И (ИЛИ)</p> <p>В необходимых математических преобразованиях или вычислениях допущены ошибки, и (или) в математических преобразованиях/вычислениях пропущены логически важные шаги.</p> <p style="text-align: center;">И (ИЛИ)</p> <p>Отсутствует пункт IV, или в нём допущена ошибка (в том числе в записи единиц измерения величины)</p>	3
<p>Представлены записи, соответствующие одному из следующих случаев.</p> <p>Представлены только положения и формулы, выражающие физические законы, применение которых необходимо для решения данной задачи, без каких-либо преобразований с их использованием, направленных на решение задачи.</p> <p style="text-align: center;">ИЛИ</p> <p>В решении отсутствует ОДНА из исходных формул, необходимая для решения данной задачи (или утверждение, лежащее в основе решения), но присутствуют логически верные преобразования с имеющимися формулами, направленные на решение задачи.</p> <p style="text-align: center;">ИЛИ</p> <p>В ОДНОЙ из исходных формул, необходимых для решения данной задачи (или в утверждении, лежащем в основе решения), допущена ошибка, но присутствуют логически верные преобразования с имеющимися формулами, направленные на решение задачи</p>	1
<p>Все случаи решения, которые не соответствуют вышеуказанным</p>	0

критериям выставления оценок в 1, 2, 3 балла	
	<i>Максимальный балл</i> 3

Крит

ерии оценивания задания 26

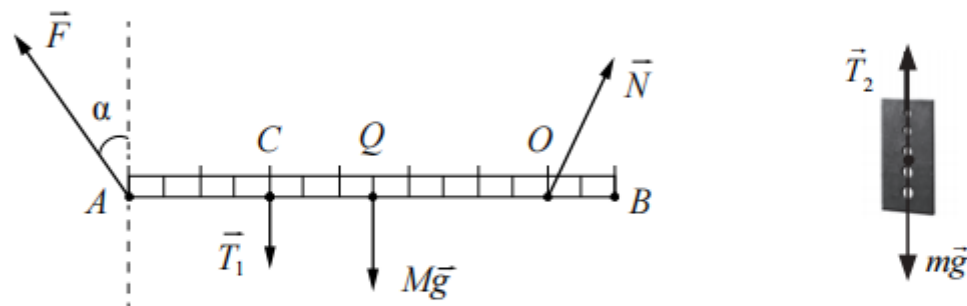
<b>Возможное решение</b>
<p><b>Обоснование</b></p> <ol style="list-style-type: none"> <li>1. Рассмотрим задачу в системе отсчёта, связанной с Землёй. Будем считать эту систему отсчёта инерциальной (ИСО).</li> <li>2. Опишем рычаг моделью твёрдого тела (форма и размеры тела неизменны, расстояние между любыми двумя точками тела остаётся неизменным).</li> <li>3. Рычаг не совершает вращательного движения, поэтому сумма моментов сил относительно оси, проходящей перпендикулярно плоскости рисунка через ось вращения рычага (точку <math>O</math>), равна нулю.</li> <li>4. Пластину опишем моделью материальной точки.</li> <li>5. Пластина находится в покое относительно поступательного движения, следовательно, векторная сумма сил, действующих на неё, равна нулю.</li> </ol>

6. Нить, соединяющая рычаг и пластину, невесома, поэтому модуль силы натяжения нити в любой её точке один и тот же:  $|\vec{T}_1| = |\vec{T}_2| = T$ .

### Решение

1. Сделаем схематичный рисунок, отражающий нашу модель. На рычаг действуют сила тяжести  $M\vec{g}$ , сила натяжения нити  $\vec{T}_1$ , сила натяжения нити  $\vec{F}$ , а также сила реакции опоры  $\vec{N}$ , приложенная в точке  $O$  (см. рисунок).

На пластину действуют сила тяжести  $m\vec{g}$  и сила натяжения нити  $\vec{T}_2$ . Пластина находится в равновесии, поэтому в соответствии с условием равновесия  $T_2 = mg$ .



2. Условие равновесия рычага относительно оси вращения, проходящей через точку  $O$  и перпендикулярной плоскости чертежа, имеет вид

$$F \cdot AO \cos \alpha - T_1 \cdot CO - Mg \cdot QO = 0,$$

где точка  $Q$  – центр рычага; момент силы  $\vec{N}$ , проходящей через ось вращения, равен нулю.

3. По фотографии видно, что длина всего рычага составляет 7 условных единиц (у.е.), а расстояния  $AO = 6$  у.е.,  $CO = 4$  у.е.,  $QO = 2,5$  у.е. соответственно. По фотографии определим  $\alpha = 45^\circ$ , а  $F = 1,6$  Н.

4. Учитывая, что  $|\vec{T}_1| = |\vec{T}_2| = T$ , определим массу стальной пластины:

$$m = \frac{F \cdot AO \cos \alpha - Mg \cdot QO}{g \cdot CO} = \frac{1,6 \cdot 6 \cdot 0,707 - 0,05 \cdot 10 \cdot 2,5}{10 \cdot 4} \approx 0,14 \text{ кг.}$$

Ответ:  $m \approx 0,14$  кг

Критерии оценивания выполнения задания	Баллы
<b>Критерий 1</b>	
Верно обоснована возможность использования законов (закономерностей). В данном случае: <i>выбор ИСО, модели твёрдого тела и материальной точки, условие равновесия твёрдого тела относительно вращательного движения, условие равновесия материальной точки</i>	1
В обосновании отсутствует один или несколько из элементов. ИЛИ В обосновании допущена ошибка. ИЛИ Обоснование отсутствует	0
<b>Критерий 2</b>	
<p>I) записаны положения теории и физические законы, закономерности, применение которых необходимо для решения задачи выбранным способом (в данном случае: <i>условие равновесия твёрдого тела относительно вращения, второй закон Ньютона; правильно найдены плечи сил</i>);</p> <p>II) сделан рисунок с указанием сил, действующих на тела;</p> <p>III) описаны все вновь вводимые в решении буквенные обозначения физических величин (<i>за исключением обозначений констант, указанных в варианте КИМ, обозначений величин, используемых в условии задачи, и стандартных обозначений величин, используемых при написании физических законов</i>);</p> <p>IV) представлены необходимые математические преобразования и расчёты (подстановка числовых данных в конечную формулу), приводящие к правильному числовому ответу (допускается решение «по частям» с промежуточными вычислениями);</p> <p>V) представлен правильный ответ с указанием единиц измерения физической величины</p> <p>II) описаны все вновь вводимые в решении буквенные обозначения физических величин (<i>за исключением обозначений констант, указанных в варианте КИМ, обозначений величин, используемых в условии задачи, и стандартных обозначений величин, используемых при написании физических законов</i>);</p> <p>III) проведены необходимые математические преобразования и расчёты (подстановка числовых данных в конечную формулу), приводящие к правильному числовому ответу (допускается решение «по частям» с промежуточными вычислениями);</p> <p>IV) представлен правильный ответ с указанием единиц измерения искомой величины.</p>	3

<p>Правильно записаны все необходимые положения теории, физические законы, закономерности, и проведены необходимые преобразования, но имеется один или несколько из следующих недостатков.</p> <p>Записи, соответствующие пункту II, представлены не в полном объёме или отсутствуют.</p> <p style="text-align: center;">И (ИЛИ)</p> <p>В решении имеются лишние записи, не входящие в решение (возможно, неверные), которые не отделены от решения и не зачёркнуты.</p> <p style="text-align: center;">И (ИЛИ)</p> <p>В необходимых математических преобразованиях или вычислениях допущены ошибки, и (или) в математических преобразованиях/ вычислениях пропущены логически важные шаги.</p> <p style="text-align: center;">И (ИЛИ)</p> <p>Отсутствует пункт IV, или в нём допущена ошибка (в том числе в записи единиц измерения величины)</p>	2
<p>Представлены записи, соответствующие <b>одному</b> из следующих случаев.</p> <p>Представлены только положения и формулы, выражающие физические законы, применение которых необходимо для решения данной задачи, без каких-либо преобразований с их использованием, направленных на решение задачи.</p> <p style="text-align: center;">ИЛИ</p> <p>В решении отсутствует <b>ОДНА</b> из исходных формул, необходимая для решения данной задачи (или утверждение, лежащее в основе решения), но присутствуют логически верные преобразования с имеющимися формулами, направленные на решение задачи.</p> <p style="text-align: center;">ИЛИ</p> <p>В <b>ОДНОЙ</b> из исходных формул, необходимых для решения данной задачи (или в утверждении, лежащем в основе решения), допущена ошибка, но присутствуют логически верные преобразования с имеющимися формулами, направленные на решение задачи</p>	1
<p>Все случаи решения, которые не соответствуют вышеуказанным критериям выставления оценок в 1, 2, 3 балла</p>	0
<p><i>Максимальный балл</i></p>	4